

TEACHING STUDENTS INTERNET SAFETY THROUGH AN ARTIFICIAL INTELLIGENCE MOBILE APPLICATION



MATERIAŁY DODATKOWE DO NAUCZANIA MATEMATYKI

Link do wersji flipbook:

<https://heyzine.com/flip-book/fc89ff7d0b.html>



Co-funded by the
Erasmus+ Programme
of the European Union



This license lets distribute, remix, adapt, and build upon your work, even commercially, as long as they credit you for the original creation.

www.isafetyapp.eu

SPIS TREŚCI

Wstęp.....	3
Matematyka inaczej	5
Motywowanie uczniów o słabszym potencjale intelektualnym do uczenia się matematyki	12
Wizualizacje i zadania z wybranych działów matematyki	14
Poradnik nauczania matematyki dla uczniów zdolnych	30

WSTĘP

Serious Games w Nauczaniu Matematyki - Nauka przez Zabawę!

Nauka matematyki może być czasami trudnym wyzwaniem dla uczniów, którzy często odczuwają niechęć do tego przedmiotu. Jednak dzięki rozwijającym się technologiom edukacyjnym, istnieje nowe i ekscytujące narzędzie, które może przekształcić sposób, w jaki uczniowie uczą się matematyki - serious games, czyli poważne gry. Serious games to interaktywne aplikacje komputerowe, które łączą elementy gier z nauką, umożliwiając uczniom naukę przez zabawę. W dzisiejszym artykule przyjrzymy się korzyściom wynikającym z wykorzystania serious games w nauczaniu matematyki.

1. **Angażująca i motywująca forma nauki:** Serious games wzbudzają zainteresowanie uczniów poprzez wprowadzenie elementów gry do procesu nauki. Dzięki temu uczniowie są bardziej skłonni zaangażować się w naukę matematyki, ponieważ mają szansę eksplorować, odkrywać i osiągać cele w sposób interaktywny i atrakcyjny. Elementy gier, takie jak rywalizacja, nagrody, poziomy trudności i odkrywanie nowych światów, stymulują motywację uczniów do samodoskonalenia i zdobywania wiedzy matematycznej.
2. **Poprawa umiejętności logicznego myślenia:** Serious games w nauczaniu matematyki rozwijają umiejętności logicznego myślenia uczniów. Gry matematyczne często wymagają analizy, rozwiązywania problemów, podejmowania decyzji i podejścia krytycznego. Uczniowie muszą stosować strategie i techniki matematyczne, aby osiągnąć cele gry. W ten sposób rozwijają swoje umiejętności logicznego rozumowania, co ma zastosowanie nie tylko w matematyce, ale również w innych dziedzinach życia.
3. **Indywidualizacja procesu nauki:** Serious games pozwalają na dostosowanie poziomu trudności do indywidualnych potrzeb i umiejętności uczniów. Gry matematyczne często oferują różne poziomy trudności, co umożliwia dopasowanie wyzwań do umiejętności każdego ucznia. Uczniowie mogą uczyć się w swoim własnym tempie, rozwijając umiejętności na odpowiednim poziomie i przejść do kolejnych poziomów trudności w miarę postępów.

4. Praktyczne zastosowanie matematyki: Serious games umożliwiają uczniom praktyczne zastosowanie matematyki w kontekście rzeczywistych sytuacji. Gry matematyczne często przedstawiają problemy i wyzwania, które wymagają zastosowania matematyki do ich rozwiązania. Uczniowie mogą eksperymentować, badać, tworzyć strategie i testować swoje umiejętności matematyczne w praktyce. To umożliwia uczniom zrozumienie, jak matematyka ma zastosowanie w życiu codziennym i motywuje ich do uczenia się.
5. Współpraca i interakcja: Serious games często oferują możliwość współpracy i interakcji między uczniami. Uczniowie mogą wspólnie rozwiązywać zadania matematyczne, podejmować decyzje i rozwiązywać problemy. Współpraca ta rozwija umiejętności komunikacyjne, pracy zespołowej i uczy uczniów jak efektywnie współpracować i wymieniać pomysły.

Podsumowanie: Serious games stanowią innowacyjne narzędzie do nauczania matematyki, które przekształca tradycyjny proces nauki w interaktywną i angażującą przygodę. Poprzez elementy gier, uczniowie mają możliwość odkrywania, eksperymentowania i zdobywania wiedzy matematycznej w sposób atrakcyjny i motywujący. Serious games rozwijają umiejętności logicznego myślenia, umożliwiają indywidualizację procesu nauki, łączą matematykę z praktycznym zastosowaniem i promują współpracę między uczniami. Dlatego warto wykorzystać serious games w nauczaniu matematyki, aby uczniowie mogli uczyć się przez zabawę i rozwijać swoje umiejętności matematyczne w innowacyjny i interaktywny sposób.

Matematyka jest niezwykle ważnym przedmiotem, który rozwija umiejętności logicznego myślenia, rozwiązywania problemów i analizy danych. Jednak często uczniowie mogą odczuwać trudności w zrozumieniu abstrakcyjnych pojęć matematycznych.

iSafetyApp to interaktywna aplikacja internetowa, która integruje różne elementy matematyki z bezpiecznym środowiskiem online. Aplikacja może być wykorzystana jako wprowadzenie do nowego tematu matematycznego.

Warto zacząć lub zakończyć lekcję, używając aplikacji, która pozwoli uczniom na wycieczkę do wirtualnego świata, w którym bardzo lubią przebywać.

Poleć uczniom pobranie aplikacji:

[Safety Escape Game – Aplikacje w Google Play](#)

Opracowany w ramach projektu Erasmus + poradnik zawiera dodatkowe materiały do nauczania wybranych zagadnień matematycznych. Zachęcamy do korzystania z zestawów zadań, wskazówek do nauczania, propozycji wykorzystania zagadnień matematycznych do rozwiązywania różnych problemów.

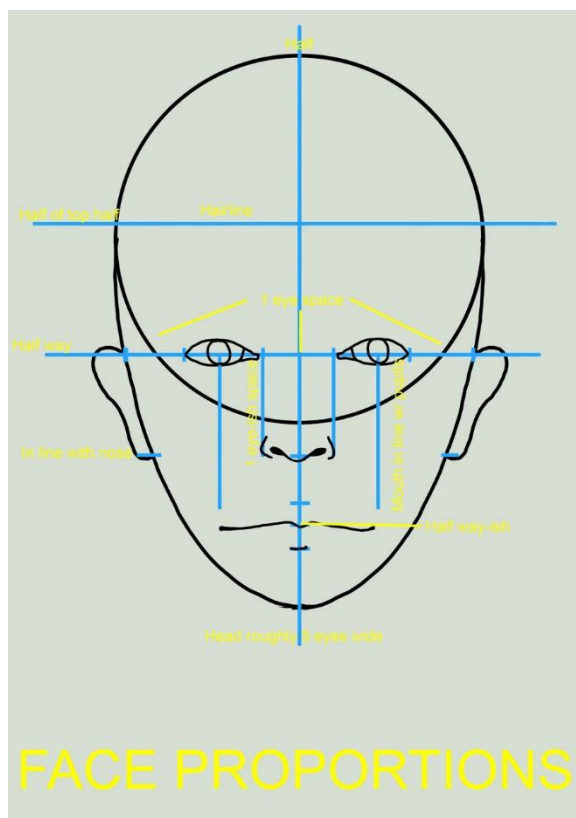
MATEMATYKA INACZEJ



ALGEBRA To zdjęcie, autor: Nieznany autor, licencja: CC BY

1. Zastosowanie algebry w codziennym życiu: Przedstaw uczniom różne przykłady sytuacji z życia codziennego, w których można zastosować algebrę. Na przykład, poproś ich o rozwiązanie problemu budżetu domowego, obliczenie odsetek lub interpretację danych statystycznych. Dzięki temu uczniowie zobaczą praktyczne zastosowanie algebry i zrozumieją, jak może ona pomóc w ich codziennym życiu.

2. Gra planszowa z równaniami: Stwórz interaktywną grę planszową, w której uczniowie będą musieli rozwiązywać równania, aby przemieszczać się po planszy. Każde pole na planszy może zawierać równanie, a uczniowie muszą je rozwiązać, aby przejść do kolejnego pola. Ta metoda nauczania algebry pozwala uczniom ćwiczyć rozwiązywanie równań w zabawny i angażujący sposób.
3. Projekt badawczy: Poproś uczniów, aby przeprowadzili projekt badawczy, który wymaga wykorzystania algebry. Na przykład, mogą zbadać wzrost roślin w zależności od ilości światła słonecznego, temperatury i ilości wody. Uczniowie będą musieli zebrać dane i analizować je, korzystając z algebry, aby znaleźć odpowiednie wzory i zależności.
4. Symulacje komputerowe: Wykorzystaj oprogramowanie do tworzenia symulacji komputerowych, które pozwoli uczniom eksperymentować i zobaczyć, jak zmiany w równaniach algebraicznych wpływają na wyniki. Na przykład, mogą symulować ruchy planet w układzie słonecznym i eksperymentować z różnymi parametrami, takimi jak masy planet czy ich odległości. To interaktywne podejście pozwoli uczniom zobaczyć w praktyce, jak algebrę można zastosować do modelowania i przewidywania różnych zjawisk.
5. Zadania problemowe z życia realnego: Przygotuj zestaw zadań problemowych, które odnoszą się do realnych sytuacji, takich jak problemy finansowe, geometria przestrzenna, planowanie tras podróży itp. Uczniowie będą musieli zidentyfikować odpowiednie równania i rozwiązać je, aby znaleźć rozwiązanie problemu. To praktyczne podejście do nauki algebry umożliwi uczniom zobaczenie, jak można ją zastosować w różnych kontekstach życiowych.



[To zdjęcie](#), autor: Nieznany autor, licencja: [CC BY-NC-ND](#)

PROPORCJE

1. Projekt kulinarnej porcji: Poproś uczniów o przygotowanie przepisu na danie, ale z ograniczeniami dotyczącymi proporcji składników. Na przykład, mogą musieć przygotować muffinki, ale proporcje mąki, cukru i masła będą musiały być zachowane. To pomoże uczniom zrozumieć znaczenie porcji i jak wpływają one na ostateczny produkt.
2. Badanie proporcji w architekturze: Zaproponuj uczniom projekt polegający na badaniu proporcji w budynkach i strukturach architektonicznych. Mogą badać stosunek wysokości do szerokości w różnych budynkach lub analizować proporcje używane w klasycznej architekturze, takie jak proporcje złotego podziału. Uczniowie będą musieli zbierać dane i rysować wykresy, aby zrozumieć znaczenie proporcji w architekturze.
3. Sklep spożywczy i jednostki miary: Poproś uczniów o przeprowadzenie wirtualnej wizyty w sklepie spożywczym, gdzie będą musieli porównać ceny różnych produktów i określić, który produkt jest bardziej opłacalny na podstawie jego proporcji ceny do ilości. To ćwiczenie pozwoli uczniom zastosować proporcje w praktyczny sposób i rozwinie ich umiejętności matematyczne związane z zakupami.

4. Proporcje w sztuce: Wprowadź uczniom do proporcji w sztuce, takich jak proporcje ciała ludzkiego w rysunku. Poproś ich o namalowanie portretu z zachowaniem właściwych proporcji. Mogą również badać proporcje w dziełach słynnych artystów i analizować, jak proporcje wpływają na kompozycję i odbiór dzieła.
5. Proporcje w kartografii: Zadanie polega na zaprojektowaniu mapy określonego obszaru, ale z zachowaniem proporcji. Uczniowie będą musieli rozważyć skalę i stosunek odległości na mapie do rzeczywistych odległości na terenie. To ćwiczenie pozwoli im zrozumieć, jak proporcje są używane w kartografii i jak ważne jest dokładne odwzorowanie rzeczywistego świata na mapach.

$$\begin{aligned}
 x &= \frac{-b \pm \sqrt{b^2 - 4ac}}{2a} \\
 &= \frac{-(-10) \pm \sqrt{72}}{2(7)} && \text{Positive discriminant} \\
 &= \frac{10 \pm \sqrt{36 \cdot 2}}{14} \\
 &= \frac{10 \pm 6\sqrt{2}}{14} \\
 &= \frac{\cancel{14} (5 \pm 3\sqrt{2})}{\cancel{14}_7} \\
 &= \frac{5 \pm 3\sqrt{2}}{7} && \text{Two real solutions}
 \end{aligned}$$

[To zdjęcie](#), autor: Nieznany autor, licencja: [CC BY-SA-NC](#)


UKŁADY RÓWNAŃ

1. 1. Zastosowanie układów równań w problemach rzeczywistych:
 Przedstaw uczniom różne problemy rzeczywiste, które można modelować za pomocą układów równań. Na przykład, problemy dotyczące mieszanki substancji chemicznych, rozkładu ilościowego, czy kosztów produkcji. Poproś uczniów, aby sformułowali układ równań, a następnie rozwiązali go, aby znaleźć rozwiązanie problemu. To praktyczne podejście pozwoli uczniom zobaczyć, jak układy równań są używane do modelowania i rozwiązywania rzeczywistych sytuacji.
2. Interaktywna gra planszowa: Stwórz interaktywną grę planszową, w której uczniowie będą musieli rozwiązywać układy równań, aby przejść przez różne poziomy gry. Każdy poziom może zawierać inny układ równań, a uczniowie będą musieli zastosować odpowiednie techniki i

umiejętności, aby znaleźć rozwiązanie. Ta metoda angażująco wprowadza uczniów w tematykę układów równań.

3. Symulacje komputerowe: Wykorzystaj oprogramowanie do tworzenia symulacji komputerowych, które pozwoli uczniom eksperymentować i zobaczyć, jak zmiany w układach równań wpływają na wyniki. Na przykład, mogą symulować ruchy ciał niebieskich w przestrzeni kosmicznej i eksperymentować z różnymi parametrami, takimi jak masy ciał czy siły grawitacyjne. Uczniowie będą mogli obserwować, jak zmiany w układach równań wpływają na trajektorie i zachowanie obiektów.
4. Problemy optymalizacyjne: Zadaj uczniom problemy optymalizacyjne, w których muszą znaleźć wartości zmiennych, które maksymalizują lub minimalizują pewną funkcję. Mogą to być problemy związane z maksymalnym zyskiem, minimalnym kosztem lub minimalnym czasem wykonania zadania. Uczniowie będą musieli sformułować układ równań na podstawie danego problemu i rozwiązać go, aby znaleźć optymalne rozwiązanie.
5. Projekt badawczy: Poproś uczniów o przeprowadzenie projektu badawczego, który wymaga wykorzystania układów równań. Na przykład, mogą badać zależności między różnymi zmiennymi w badaniach naukowych, ekonomii lub innych dziedzinach. Uczniowie będą musieli zbierać dane, analizować je i sformułować układ równań, aby znaleźć zależności i wyjaśnić wyniki. To projektowe podejście do nauki układów równań rozwija umiejętności badawcze i logiczne myślenie.

GEOMETRIA



1. 1. Badanie figur geometrycznych za pomocą manipulatywnych materiałów: Zapewnij uczniom manipulatywne materiały, takie jak klocki geometryczne, plastikowe modele figur, sznurki itp. Poproś ich, aby eksperymentowali z tworzeniem różnych figur i analizowali ich właściwości, takie jak liczba boków, kąty, powierzchnia i objętość. To praktyczne podejście pozwoli uczniom na interaktywne odkrywanie geometrii i zrozumienie jej podstawowych pojęć.
2. Symetria wokół nas: Poproś uczniów, aby poszukiwali symetrii w otaczającym ich świecie. Mogą fotografować symetryczne obiekty, takie jak liście, budynki, wzory na dywanach itp. Następnie niech analizują symetrię tych obiektów, rozpoznają rodzaje symetrii (ośowa, środkowa itp.) i tworzą własne symetryczne wzory. To pomaga uczniom zobaczyć, jak symetria jest obecna w różnych kontekstach i rozwija ich zdolności obserwacyjne.
3. Konstrukcje geometryczne: Wprowadź uczniom do konstrukcji geometrycznych za pomocą cyrkla, linijki i kątomierza. Poproś ich, aby konstruowali różne figury, takie jak trójkąty, kwadraty, prostokąty itp., używając określonych parametrów, na przykład długości boków lub wartości kątów. Następnie niech badają właściwości tych figur i zauważają wzory. To ćwiczenie rozwija umiejętności konstrukcyjne i umiejętność logicznego myślenia.

4. Geometryczne zagadki i łamigłówki: Przedstaw uczniom różne zagadki geometryczne i łamigłówki, które wymagają zastosowania logicznego myślenia i umiejętności rozwiązywania problemów geometrycznych. Na przykład, zagadki dotyczące układania klocków w określone figury, problemy z wyznaczeniem nieznanymi wymiarów figur itp. To zachęca uczniów do kreatywnego myślenia i rozwiązywania trudności geometrycznych.
5. Projekt geometryczny: Poproś uczniów o przeprowadzenie projektu geometrycznego, na przykład zaprojektowanie własnego miasta lub parku z wykorzystaniem różnych figur geometrycznych. Uczniowie będą musieli rozważyć proporcje, symetrię, układ przestrzenny i inne elementy geometrii, aby stworzyć spójną i interesującą przestrzeń. To projektowe podejście rozwija umiejętności projektowania, zdolności przestrzenne i kreatywność uczniów.

Motywowanie uczniów o słabszym potencjale intelektualnym do uczenia się matematyki



To zdjęcie, autor: Nieznany autor, licencja: CC BY-SA


Motywowanie uczniów o słabszym potencjale intelektualnym do nauki matematyki może być wyzwaniem, ale istnieje wiele strategii, które mogą pomóc w tym procesie. Oto kilka sugestii:

1. Indywidualizacja nauczania: Dostosuj swoje podejście nauczania do potrzeb i umiejętności każdego ucznia. Rozpoznaj ich mocne strony i słabości w matematyce i opracuj spersonalizowany plan nauczania, który będzie dostosowany do ich poziomu. Uczniowie odczuwają większą motywację, gdy czują, że są rozumiani i mają indywidualne wsparcie.
2. Stosowanie praktycznych przykładów: Przykłady matematyczne oparte na rzeczywistych sytuacjach i problemach mogą pomóc uczniom o słabszym potencjale intelektualnym zrozumieć zastosowanie matematyki w codziennym życiu. Pokaż im, jak matematyka jest praktyczna i użyteczna, aby zwiększyć ich motywację.
3. Zastosowanie multimediów i technologii: Wykorzystaj multimediów, gry matematyczne, aplikacje, interaktywne narzędzia online i programy komputerowe, aby uczniowie mogli uczyć się matematyki w atrakcyjny i interaktywny sposób. Takie metody mogą zainteresować uczniów, którzy mają trudności w tradycyjnym podejściu do matematyki.

4. Tworzenie pozytywnego środowiska klasowego: Twórz atmosferę wzajemnego szacunku, wsparcia i pozytywnego podejścia do nauki matematyki. Pochwalaj postępy uczniów, doceniaj ich wysiłek i celebrowaj każdy sukces. Motywacja wzrasta, gdy uczniowie czują się docenieni i bezpieczni w swoim otoczeniu.
5. Zastosowanie różnorodnych metod nauczania: Wykorzystaj różne metody nauczania, takie jak praca w grupach, gry dydaktyczne, manipulacje, ćwiczenia praktyczne i wizualizacje. Dywersyfikacja metod pozwala na różnorodność i dostosowanie się do różnych stylów uczenia się.
6. Cele i nagrody pośrednie: Ustal krótkoterminowe cele dla uczniów i nagradzaj ich za osiągnięcie tych celów. Cele powinny być osiągalne i konkretnie związane z postępem w nauce matematyki. Nagrody pośrednie, takie jak pochwały, certyfikaty, odznaki czy małe prezenty, mogą dodatkowo motywować uczniów.
7. Znalezienie zainteresowań i pasji: Spróbuj znaleźć dziedziny matematyki, które są szczególnie interesujące dla uczniów o słabszym potencjale intelektualnym. Może to być geometria, statystyka, gry logiczne itp. Odkrywanie i rozwijanie pasji w matematyce może przyczynić się do większej motywacji do nauki.

Należy pamiętać, że każdy uczeń jest inny, dlatego ważne jest, aby dostosować strategię motywacyjną do indywidualnych potrzeb i preferencji ucznia. Budowanie pozytywnej relacji, wspieranie, cierpliwość i wytrwałość są kluczowe dla skutecznego motywowania uczniów o słabszym potencjale intelektualnym do nauki matematyki.

Oto kilka pomysłów na wizualizacje, które mogą pomóc w nauce algebry:



[To zdjęcie](#), autor: Nieznany autor, licencja: [CC BY-SA](#)

Manipulowanie zmiennymi:

Przygotuj zestaw kolorowych kart zmiennych. Na każdej karcie umieść jedną zmienną, na przykład "x" lub "y". Poproś uczniów, aby korzystali z tych kart podczas rozwiązywania równań lub wyrażeń algebraicznych. Poprzez fizyczne manipulowanie zmiennymi, będą mieli lepsze pojęcie o działaniach algebraicznych i zrozumieją, jak zmienne wpływają na wyniki.

Modelowanie równań liniowych:

Poproś uczniów, aby stworzyli modele przedstawiające równania liniowe. Mogą użyć np. klocków, kolorowych pasków lub innych materiałów. Na przykład, dla równania $2x + 3y = 8$, mogą użyć 2 klocków reprezentujących "x", 3 klocków reprezentujących "y" i 8 klocków reprezentujących wartość po prawej stronie

równania. Przez manipulację i przekładanie tych elementów, uczniowie będą lepiej rozumieć równania liniowe i ich rozwiązania.

Geometria algebraiczna:

Zachęć uczniów do eksplorowania związków między geometrią a algebrą. Poproś ich, aby wybrali figurę geometryczną, na przykład prostokąt, trójkąt lub okrąg, a następnie obliczali różne wartości związane z tą figurą, takie jak obwód, pole, przekątne itp. Uczniowie mogą wykorzystać wzory algebraiczne, aby obliczyć te wartości i zobaczyć, jak algebra łączy się z geometrią.

Gra planszowa z zadaniami algebraicznymi:

Stwórz grę planszową, w której uczniowie będą rozwiązywać zadania algebraiczne. Na planszy umieść różne pola z zadaniami, a uczniowie będą przechodzić po planszy, rozwiązując zadania algebraiczne, aby zdobywać punkty lub osiągać cele. Gra planszowa może być zarówno edukacyjna, jak i zabawna, zapewniając interaktywny sposób nauki i utrwalania umiejętności algebraicznych.

Pamiętaj, że wizualizacje są potężnym narzędziem w nauce algebry, ponieważ pomagają uczniom wizualnie zobaczyć abstrakcyjne pojęcia i zależności między liczbami. Dają również możliwość eksperymentowania i aktywnego uczestnictwa w procesie nauki, co może zwiększyć zainteresowanie i zaangażowanie uczniów.

Oto zestaw zadań z algebry dla uczniów, którzy mają problemy z nauką matematyki.

Zadania mają na celu zapewnienie praktycznych przykładów i stopniowe wprowadzanie uczniów w świat algebry. Pamiętaj, że można dostosować trudność i ilość zadań w zależności od poziomu uczniów.

1. Wyrażenia algebraiczne:

a) Uporządkuj następujące wyrażenia algebraiczne, łącząc podobne składniki:

- $2x + 5y - 3x + 2y$
- $4a^2 + 3a + 2a^2 - 5a$

b) Oblicz wartość wyrażen dla danych wartości zmiennych:

- $3x + 2y$, dla $x = 4$, $y = 6$
- $2a^2 - 3a + 4$, dla $a = 2$

2. Równania liniowe: a) Rozwiąż równania liniowe:

- $2x + 3 = 7$
- $4y - 8 = 20$ b) Znajdź wartości x i y w równaniu: $2x + 3y = 10$, jeśli $x = 2$.

3. Równania kwadratowe:

4. a) Rozwiąż równania kwadratowe:

- $x^2 - 5x + 6 = 0$
- $2y^2 + 3y - 2 = 0$
- b) Znajdź pierwiastki równania kwadratowego: $3x^2 - 7x + 2 = 0$.

5. Proporcje i skale: a) Oblicz brakujące wartości w proporcji: $x/4 = 6/12$. b) Skala mapy to 1 cm : 10 km. Jeśli na mapie odcinek ma 8 cm, to ile kilometrów reprezentuje?

6. Zastosowanie algebraicznych modeli: a) Wykorzystując równanie $y = mx + c$, narysuj wykres funkcji, gdzie $m = 2$ i $c = 3$. b) Wzór $A = P(1 + r/n)^{nt}$ opisuje wartość końcową inwestycji, gdzie A to wartość końcowa, P to początkowa wartość inwestycji, r to roczna stopa procentowa, n to liczba okresów kapitalizacji w ciągu roku, a t to liczba lat. Oblicz wartość końcową inwestycji dla $P = 5000$, $r = 0.05$, $n = 4$ i $t = 3$.

7. Praca z funkcjami:

a) Oblicz wartość funkcji $f(x) = 2x^2 - 3x + 5$ dla $x = 2$.

b) Narysuj wykres funkcji $g(x) = -x^2 + 4x - 3$.

Pamiętaj, że kluczowe jest udzielanie odpowiedzi uczniom, wyjaśnianie kroków rozwiązania i pomaganie im w zrozumieniu konceptów algebraicznych. To

zestawienie zadań ma na celu wprowadzenie uczniów do algebry i stopniowe rozwijanie ich umiejętności w tym obszarze.

Poradnik do rozwiązywania zadań:

1. Wyrażenia algebraiczne: a) Aby uporządkować wyrażenia algebraiczne, łączymy podobne składniki. Dodajemy lub odejmujemy wyrażenia z takimi samymi zmiennymi i stopniami.

- $2x + 5y - 3x + 2y = (2x - 3x) + (5y + 2y) = -x + 7y$

- $4a^2 + 3a + 2a^2 - 5a = (4a^2 + 2a^2) + (3a - 5a) = 6a^2 - 2a$

b) Aby obliczyć wartość wyrażenia dla danych wartości zmiennych, podstawiamy wartości zmiennych do wyrażenia i wykonujemy obliczenia.

- Dla $x = 4, y = 6$: $3x + 2y = 3(4) + 2(6) = 12 + 12 = 24$

- Dla $a = 2$: $2a^2 - 3a + 4 = 2(2^2) - 3(2) + 4 = 2(4) - 6 + 4 = 8 - 6 + 4 = 6$

2. Równania liniowe: a) Aby rozwiązać równania liniowe, przenosimy wszystkie wyrazy zmiennych na jedną stronę, a liczby na drugą stronę, aby otrzymać x lub y .

- $2x + 3 = 7$ $2x = 7 - 3$ $2x = 4$ $x = 4/2$ $x = 2$

- $4y - 8 = 20$ $4y = 20 + 8$ $4y = 28$ $y = 28/4$ $y = 7$

b) Aby znaleźć wartości x i y w równaniu $2x + 3y = 10$, podstawiamy $x = 2$ i obliczamy wartość y : $2(2) + 3y = 10$ $4 + 3y = 10$ $3y = 10 - 4$ $3y = 6$ $y = 6/3$ $y = 2$

3. Równania kwadratowe: a) Aby rozwiązać równania kwadratowe, możemy użyć metody rozkładu na czynniki lub zastosować wzory kwadratowe. Jeśli nie można rozłożyć równania na czynniki, możemy użyć metody równań kwadratowych.

- $x^2 - 5x + 6 = 0$ $(x - 2)(x - 3) = 0$ $x = 2$ lub $x = 3$

- $2y^2 + 3y - 2 = 0$ $(2y - 1)(y + 2) = 0$ $y = 1/2$ lub $y = -2$

b) Aby znaleźć pierwiastki równania kwadratowego $3x^2 - 7x + 2 = 0$, możemy rozwiązać równanie poprzez rozkład na czynniki lub zastosować wzory kwadratowe.

- $(3x - 1)(x - 2) = 0$ $x = 1/3$ lub $x = 2$

4. Proporcje i skale: a) Aby obliczyć brakujące wartości w proporcji $x/4 = 6/12$, możemy zastosować regułę równości iloczynów skrzyżowych. $x/4 = 6/12$ $12x = 4 * 6$ $12x = 24$ $x = 24/12$ $x = 2$

b) Skala mapy to 1 cm : 10 km. Jeśli odcinek na mapie ma 8 cm, aby obliczyć, ile kilometrów reprezentuje, musimy pomnożyć długość odcinka na mapie przez skalę. $8 \text{ cm} * 10 \text{ km/cm} = 80 \text{ km}$

5. Zastosowanie algebraicznych modeli: a) Wykorzystując równanie $y = mx + c$, gdzie $m = 2$ i $c = 3$, możemy narysować wykres funkcji. Wybieramy różne wartości x , obliczamy odpowiadające im wartości y i tworzymy punkty na wykresie, które łączymy linią. Przykładowe punkty: (0, 3), (1, 5), (2, 7), (3, 9), itd.

b) Wzór $A = P(1 + r/n)^{(nt)}$ opisuje wartość końcową inwestycji. Podstawiając wartości $P = 5000$, $r = 0.05$, $n = 4$ i $t = 3$ do wzoru, możemy obliczyć wartość końcową A . $A = 5000(1 + 0.05/4)^{(4*3)}$ $A = 5000(1 + 0.0125)^{(12)}$ $A = 5000(1.0125)^{(12)}$ $A \approx 5000 * 1.159$ $A \approx 5795$

6. Praca z funkcjami: a) Aby obliczyć wartość funkcji $f(x) = 2x^2 - 3x + 5$ dla $x = 2$, podstawiamy $x = 2$ do równania i wykonujemy obliczenia. $f(2) = 2(2^2) - 3(2) + 5$ $f(2) = 2(4) - 6 + 5$ $f(2) = 8 - 6 + 5$ $f(2) = 7$

b) Aby narysować wykres funkcji $g(x) = -x^2 + 4x - 3$, wybieramy różne wartości x , obliczamy odpowiadające im wartości y i tworzymy punkty na wykresie, które łączymy linią. Przykładowe punkty: (-2, -15), (-1, -8), (0, -3), (1, 0), itd.

Mając ten poradnik, uczniowie będą mieli jasne wskazówki dotyczące rozwiązania zadań z algebry i będą mogli pracować nad zwiększaniem swoich umiejętności w tym obszarze matematyki. Pamiętaj, aby udzielać im pomocy i wyjaśnień, jeśli napotkają trudności.

Oto kilka wizualizacji, które mogą pomóc w nauce proporcji:



[To zdjęcie](#), autor:
Nieznany autor,
licencja: [CC BY-SA](#)

1. Zestaw linijek proporcjonalnych: Przygotuj kilka linijek różnej długości (np. 1 cm, 2 cm, 3 cm itd.). Możesz użyć linijki lub innych narzędzi do rysowania. Umieść je obok siebie na kartce papieru i zobacz, jak się skalują. To pomoże Ci zobaczyć, jak zmienia się proporcja długości w zależności od wielkości.
2. Rysowanie figur geometrycznych: Wybierz figurę geometryczną, na przykład trójkąt, kwadrat, prostokąt lub koło. Następnie narysuj kilka wariantów tej samej figury, ale w różnych proporcjach. Na przykład, narysuj trójkąty o różnych długościach boków i porównaj ich proporcje. To pomoże Ci zrozumieć, jak zmiana proporcji wpływa na wygląd figury.
3. Składanie papieru: Weź kawałek papieru i zagięć go w różne proporcje. Możesz zacząć od prostokąta i zagiąć go w połowie, trzeciej części, czwartej części itd. To pomoże Ci zobaczyć, jak zmienia się proporcja długości i szerokości w zależności od sposobu złożenia.
4. Porównywanie przedmiotów: Zbierz różne przedmioty o różnych rozmiarach, na przykład owoce, długopisy, książki itp. Umieść je obok siebie i porównaj ich rozmiary. Możesz również zastosować pudełka, aby stworzyć różne proporcje w trzech wymiarach.
5. Rysowanie proporcji ciała: Jeśli interesuje Cię nauka proporcji ciała ludzkiego, możesz użyć różnych technik rysunkowych, takich jak podział proporcji na głowę, aby stworzyć wizualizację proporcji. Istnieje wiele poradników online, które pokazują, jak rysować proporcje ciała ludzkiego, z uwzględnieniem różnych proporcji między częściami ciała.

Pamiętaj, że nauka proporcji wymaga praktyki i obserwacji. Korzystaj z tych wizualizacji jako narzędzia, aby lepiej zrozumieć, jak proporcje wpływają na różne obiekty i rysunki.

Oto zestaw zadań z proporcji dla uczniów, którzy mają problemy z uczeniem się matematyki:

Zadanie 1: W sklepie sprzedają 3 butelki soku za 6 złotych. Ile kosztuje 7 butelek soku?

Zadanie 2: Na mapie odległość między dwoma miastami wynosi 9 centymetrów. Jeśli skala mapy to 1 centymetr = 50 kilometrów, to jaka jest rzeczywista odległość między tymi miastami?

Zadanie 3: Na boisku do piłki nożnej drużyna A ma 18 zawodników, a drużyna B ma 15 zawodników. Ile zawodników ma drużyna C, jeśli proporcja między liczbą zawodników drużyny A i B wynosi 3:5?

Zadanie 4: Na planie domu proporcja między długością rzeczywistą pokoju a jego długością na planie wynosi 1:50. Jeśli długość pokoju na planie wynosi 8 centymetrów, to jaka jest rzeczywista długość pokoju?

Zadanie 5: Aby upiec 24 ciasteczka, potrzebujesz 3 filiżanek mąki. Ile filiżanek mąki będzie potrzebnych do upieczenia 40 ciasteczek?

Zadanie 6: Prędkość dźwięku w powietrzu wynosi około 340 metrów na sekundę. Ile czasu zajmie dźwięk przebycie odległości 1,5 kilometra?

Zadanie 7: Na placu zabaw 12 dzieci bawi się na 3 huśtawkach. Ile huśtawek będzie potrzebnych, jeśli 24 dzieci chce się bawić?

Zadanie 8: W trójkącie ABC stosunek długości boku AB do boku BC wynosi 3:4, a długość boku BC to 12 centymetrów. Ile centymetrów ma bok AB?

Zadanie 9: Dwa samochody jednocześnie ruszają z dwóch różnych punktów w kierunku siebie. Samochód A porusza się z prędkością 60 km/h, a samochód B porusza się z prędkością 80 km/h. Jeśli odległość między nimi wynosi 240 kilometrów, ile godzin potrwa, zanim się spotkają?

Zadanie 10: Na balu studniówkowym $\frac{2}{5}$ uczestników to chłopcy, a resztę stanowią dziewczęta. Jeśli liczba chłopców wynosi 60, to ile uczestników jest na balu studniówkowym?

Oto poradnik do rozwiązania zestawu zadań z proporcji:

Zadanie 1: Skorzystaj z proporcji, aby znaleźć cenę 1 butelki soku. Podziel 6 złotych przez 3 butelki, aby uzyskać cenę jednej butelki ($6 \text{ zł} / 3 = 2 \text{ zł}$). Następnie pomnóż cenę jednej butelki (2 zł) przez liczbę butelek (7), aby znaleźć koszt 7 butelek soku ($2 \text{ zł} * 7 = 14 \text{ zł}$).

Odpowiedź: 7 butelek soku kosztuje 14 złotych.

Zadanie 2: Aby znaleźć rzeczywistą odległość między miastami, pomnóż odległość na mapie (9 centymetrów) przez skalę mapy (50 kilometrów na centymetr). W rezultacie otrzymasz rzeczywistą odległość między miastami.

Obliczenia: $9 \text{ cm} * 50 \text{ km/cm} = 450 \text{ km}$

Odpowiedź: Rzeczywista odległość między miastami wynosi 450 kilometrów.

Zadanie 3: Aby znaleźć liczbę zawodników drużyny C, skorzystaj z proporcji. Proporcja między liczbą zawodników drużyny A a B wynosi 3:5. Najpierw oblicz wspólny mianownik: $3 + 5 = 8$. Następnie podziel liczbę zawodników przez wspólny mianownik i pomnóż przez 8, aby znaleźć liczbę zawodników drużyny C.

Obliczenia: $(18/8) * 8 = 18$

Odpowiedź: Drużyna C ma 18 zawodników.

Zadanie 4: Aby znaleźć rzeczywistą długość pokoju, podziel długość pokoju na planie (8 centymetrów) przez proporcję (1:50). Pomnóż wynik przez 50, aby otrzymać rzeczywistą długość pokoju.

Obliczenia: $8 \text{ cm} / 50 = 0,16 \text{ cm}$ $0,16 \text{ cm} * 50 = 8 \text{ cm}$

Odpowiedź: Rzeczywista długość pokoju wynosi 8 centymetrów.

Zadanie 5: Aby znaleźć liczbę filiżanek mąki potrzebną do upieczenia 40 ciasteczek, skorzystaj z proporcji. Znajdź proporcję między liczbą ciasteczek a ilością mąki. Wiesz, że 24 ciasteczka wymagają 3 filiżanek mąki. Podziel liczbę

ciasteczek przez 24 i pomnóż przez 3, aby znaleźć liczbę filiżanek mąki potrzebną do upieczenia 40 ciasteczek.

Obliczenia: $(40/24) * 3 = 5$

Odpowiedź: Do upieczenia 40 ciasteczek potrzebujesz 5 filiżanek mąki.

Zadanie 6: Aby obliczyć czas, jaki zajmie dźwięk na przebycie odległości, podziel odległość (1,5 kilometra) przez prędkość dźwięku (340 metrów na sekundę).

Obliczenia: $1,5 \text{ km} / 0,34 \text{ km/s} = 4,41 \text{ s}$

Odpowiedź: Dźwięk zajmie około 4,41 sekundy na przebycie odległości 1,5 kilometra.

Zadanie 7: Aby znaleźć liczbę huśtawek potrzebnych dla 24 dzieci, skorzystaj z proporcji. Proporcja liczby dzieci do liczby huśtawek jest taka sama dla obu przypadków. Podziel liczbę dzieci przez liczbę huśtawek dla 12 dzieci, a następnie pomnóż wynik przez 24 dzieci, aby znaleźć liczbę huśtawek potrzebną dla 24 dzieci.

Obliczenia: $(24/12) * 3 = 6$

Odpowiedź: Potrzeba 6 huśtawek, aby 24 dzieci mogło się bawić.

Zadanie 8: Stosunek długości boku AB do boku BC wynosi 3:4, a długość boku BC wynosi 12 centymetrów. Aby znaleźć długość boku AB, podziel długość boku BC przez 4, a następnie pomnóż wynik przez 3.

Obliczenia: $(12 \text{ cm} / 4) * 3 = 9 \text{ cm}$

Odpowiedź: Bok AB ma długość 9 centymetrów.

Zadanie 9: Aby znaleźć czas, który upłynie, zanim dwa samochody się spotkają, podziel odległość między nimi (240 kilometrów) przez sumę ich prędkości (60 km/h + 80 km/h).

Obliczenia: $240 \text{ km} / (60 \text{ km/h} + 80 \text{ km/h}) = 2 \text{ godziny}$

Odpowiedź: Dwa samochody spotkają się po upływie 2 godzin.

Zadanie 10: Aby znaleźć liczbę uczestników na balu studniówkowym, skorzystaj z proporcji. Wiesz, że $2/5$ uczestników to chłopcy, a liczba chłopców wynosi 60. Podziel liczbę chłopców przez proporcję $2/5$, a następnie pomnóż wynik przez 5.

Oto propozycja wizualizacji do nauczania układów równań:

$$\begin{bmatrix} f_x \\ f_y \\ f_z \end{bmatrix} = -\frac{1}{m} R_t K_t R_t^T \dot{\zeta} - G \quad (15)$$

$$\begin{bmatrix} f_\phi \\ f_\theta \\ f_\psi \end{bmatrix} = -(I_T R_r)^{-1} \left[I_T \left(\frac{\partial R_r}{\partial \phi} \dot{\phi} + \frac{\partial R_r}{\partial \theta} \dot{\theta} \right) \dot{\eta} - K_r R_r \dot{\eta} - (R_r \dot{\eta}) \times (I_T R_r \dot{\eta}) \right] + \begin{bmatrix} \frac{c}{I_z} C_\phi T_\theta \sum_{i=1}^4 (-1)^{i+1} F_i \\ -\frac{c}{I_z} S_\phi \sum_{i=1}^4 (-1)^{i+1} F_i \\ \frac{d}{I_y} S_\phi S_{e_\theta} (F_3 - F_1) \end{bmatrix}$$

${}^1T_\theta$ and $S_{e(\cdot)}$ are respectively the abbreviations of $\tan(\cdot)$ and $\frac{1}{\cos(\cdot)}$

[To zdjęcie](#), autor: Nieznany autor, licencja: [CC BY-SA](#)

1. Tablica z równaniami: Nauczyciel może przygotować dużą tablicę, na której narysowane będą równania z układu równań. Każde równanie powinno być umieszczone w oddzielnym wierszu.
2. Bloki zmiennych: Użyj bloków o różnych kolorach lub kształtach, aby reprezentować zmienne. Na przykład, niebieski blok oznacza zmienną "x", a żółty blok oznacza zmienną "y". Przesuwając te bloki wzdłuż równań na tablicy, uczniowie będą mogli zobaczyć, jak zmienne wpływają na równania.
3. Strzałki i oznaczenia: Użyj strzałek, aby wskazać przypisane współczynniki przy zmiennych. Na przykład, strzałka od bloku "2x" może wskazywać współczynnik "2", a strzałka od bloku "3y" może wskazywać współczynnik "3". Dodatkowo, oznacz równania jako "1", "2", "3" itd., aby ułatwić odnalezienie konkretnych równań podczas wyjaśnień.
4. Manipulacja blokami: Poproś uczniów, aby manipulowali blokami zmiennych, przesuwając je zgodnie z działaniami matematycznymi, które mają zastosować do równań. Na przykład, jeśli równanie wymaga dodania 2 do "x", uczniowie mogą przesunąć blok "x" o 2 jednostki w prawo. To pomoże im zobaczyć, jak ta operacja wpływa na równanie.
5. Zaznaczanie wspólnych rozwiązań: Podkreśl konkretną pozycję bloków, które reprezentują wartości rozwiązań układu równań. Możesz to zrobić za pomocą kółek lub kwadratów wokół bloków. Pokaż uczniom, jak wspólna pozycja bloków oznacza rozwiązanie układu równań.
6. Wykresy: Przedstaw wykresy równań na osi kartezjańskiej, gdzie oś "x" reprezentuje jedną zmienną, a oś "y" reprezentuje drugą zmienną. Pokaż

uczniom, jak punkty przecięcia wykresów reprezentują rozwiązania układu równań.

7. Interaktywne narzędzia online: Wykorzystaj interaktywne narzędzia dostępne online, które umożliwiają uczniom eksperymentowanie z układami równań. Istnieje wiele aplikacji i stron internetowych, które umożliwiają tworzenie i manipulację równaniami, co może pomóc uczniom w lepszym zrozumieniu koncepcji układów równań.

Oto zestaw zadań z układów równań dla uczniów z trudnościami w uczeniu się matematyki:

1. Rozwiąż poniższy układ równań metodą zastępowania: $2x + 3y = 10$ $x - y = 2$
2. Rozwiąż poniższy układ równań metodą eliminacji: $3x + 2y = 8$ $2x - y = 1$
3. Rozwiąż poniższy układ równań graficznie: $y = 2x - 3$ $y = -x + 5$
4. Rozwiąż poniższy układ równań metodą zastępowania: $4x + 5y = 17$ $2x + y = 7$
5. Rozwiąż poniższy układ równań metodą eliminacji: $3x + 4y = 11$ $6x + 8y = 22$
6. Rozwiąż poniższy układ równań graficznie: $2x + 3y = 6$ $4x - y = 8$
7. Rozwiąż poniższy układ równań metodą zastępowania: $2x - y = 5$ $3x + 2y = 8$
8. Rozwiąż poniższy układ równań metodą eliminacji: $5x + 3y = 12$ $4x + 2y = 10$
9. Rozwiąż poniższy układ równań graficznie: $y = -2x + 4$ $y = 3x - 1$
10. Rozwiąż poniższy układ równań metodą zastępowania: $3x - 2y = 7$ $x + 4y = 5$

Oto poradnik do rozwiązywania zadań z układów równań:

Rozwiązywanie układu równań metodą zastępowania:

- a) Spójrz na pierwsze równanie: $2x + 3y = 10$. Możemy rozwiązać to równanie, wyrażając jedną zmienną (x lub y) na podstawie drugiego równania.
- b) Przyjrzyj się drugiemu równaniu: $x - y = 2$. Możemy wyrazić x na podstawie tego równania: $x = y + 2$.
- c) Podstaw to wyrażenie dla x w pierwszym równaniu: $2(y + 2) + 3y = 10$.
- d) Rozwiń nawias: $2y + 4 + 3y = 10$.
- e) Połącz wyrazy z y : $5y + 4 = 10$.
- f) Odejmij 4 od obu stron równania: $5y = 6$.
- g) Podziel obie strony przez 5: $y = 6/5 = 1.2$.
- h) Teraz, aby znaleźć x , podstaw wartość y do drugiego równania: $x = 1.2 + 2 = 3.2$.
- i) Rozwiązaniem tego układu równań jest $x = 3.2$ i $y = 1.2$.

Rozwiązywanie układu równań metodą eliminacji:

- a) Spójrz na oba równania i zdecyduj, której zmiennej chcesz pozbyć się poprzez eliminację. W tym przypadku wyeliminujemy zmienną x .
- b) Pomnóż pierwsze równanie przez 2, a drugie równanie przez 3, aby dopasować współczynniki przy x i doprowadzić je do przeciwnych znaków: $4x + 6y = 20$ i $6x - 3y = 3$.
- c) Dodaj te równania: $(4x + 6y) + (6x - 3y) = 20 + 3$.
- d) Sprowadź do postaci: $10x + 3y = 23$.
- e) Rozwiąż to równanie, aby obliczyć wartość jednej ze zmiennych. Na przykład, wyrażając x na podstawie tego równania: $x = (23 - 3y) / 10$.
- f) Podstaw to wyrażenie dla x do jednego z początkowych równań i rozwiąż je, aby obliczyć wartość drugiej zmiennej.
- g) W tym przypadku, podstawiając $x = (23 - 3y) / 10$ do pierwszego równania, otrzymujemy: $2((23 - 3y) / 10) + 3y = 10$.

h) Rozwiąż to równanie, aby obliczyć wartość y . Następnie podstaw tę wartość y do jednego z równań, aby obliczyć wartość x .

i) Rozwiązaniem tego układu równań jest $x = 3.2$ i $y = 1.2$.

Rozwiązywanie układu równań graficznie:


a) Narysuj wykresy obu równań na układzie kartezjańskim, oznaczając oś x i oś y .

b) Znajdź punkt przecięcia wykresów. Jest to rozwiązanie układu równań.

c) W tym przypadku, punkt przecięcia wykresów reprezentuje $x = 3.2$ i $y = 1.2$, co jest rozwiązaniem układu równań.

Oto kilka wizualizacji, które mogą pomóc w nauce geometrii:

1. Wizualizacja figure geometrycznych:



- Wygeneruj interaktywną wizualizację różnych figur geometrycznych, takich jak trójkąty, prostokąty, kwadraty, koła itp.

Na wizualizacji powinny być widoczne wymiary i proporcje figur, aby uczniowie mogli zobaczyć ich cechy i relacje.

2. Interaktywny wykres punktowy:

- Przedstaw na wykresie punktowym różne punkty w przestrzeni, a uczniowie mogą je manipulować, przesuwać, skalując lub obracając. To pomoże im zrozumieć pojęcia takie jak współrzędne punktu, układ kartezjański i odległości między punktami.

3. Symulacja kątów:

- Stwórz wizualizację, która pozwala na manipulację kątami. Uczniowie mogą zmieniać wartości kątów i obserwować, jak się zmieniają ich wielkości oraz jak wpływają na relacje między innymi kątami.

4. Wizualizacja twierdzeń geometrii:

- Przedstaw wizualizacje twierdzeń geometrycznych, takich jak twierdzenie Pitagorasa, twierdzenie Talesa czy twierdzenie sinusów. Poprzez animacje i interakcję, uczniowie będą mogli zobaczyć, jak te twierdzenia działają na przykładach konkretnych figur geometrycznych.

5. Animacja konstrukcji geometrycznych:

- Stwórz animacje demonstrujące proces konstruowania różnych figur geometrycznych, takich jak równoległe linie, prostokąty czy symetria osiowa. To pomoże uczniom wizualnie zrozumieć kroki konstrukcji i relacje między różnymi elementami.

Oto zestaw zadań z geometrii dla uczniów mających problemy z nauką matematyki:

1. Zadanie: Oblicz pole prostokąta o długości boku równym 5 cm i szerokości boku równym 8 cm.
2. Zadanie: Oblicz obwód trójkąta równobocznego, którego bok ma długość 6 cm.
3. Zadanie: Oblicz objętość sześcianu o krawędzi długości 4 cm.
4. Zadanie: Oblicz obwód koła o promieniu 5 cm.

5. Zadanie: Oblicz długość przekątnej prostokąta o bokach długości 9 cm i 12 cm.
6. Zadanie: Oblicz pole trapezu o długości podstaw 5 cm i 8 cm oraz wysokości 6 cm.
7. Zadanie: Oblicz pole trójkąta prostokątnego, którego przyprostokątne mają długość 3 cm i 4 cm.
8. Zadanie: Oblicz objętość stożka o promieniu podstawy 2 cm i wysokości 6 cm.
9. Zadanie: Oblicz obwód kwadratu o boku długości 7 cm.
10. Zadanie: Oblicz pole trójkąta o podstawie długości 10 cm i wysokości 8 cm.

Dobrze jest dostarczyć uczniom rysunki lub diagramy, aby pomóc im wizualizować i zrozumieć problem. Zachęcaj uczniów do używania odpowiednich wzorów i równań do rozwiązania problemów geometrycznych.

Pamiętaj, że jako nauczyciel możesz dostosować trudność tych zadań do poziomu i umiejętności uczniów, dostosowując wartości liczbowe lub dodając dodatkowe warunki. Ważne jest, aby zapewnić odpowiednie wyjaśnienie i wskazówki w przypadku trudności uczniów.

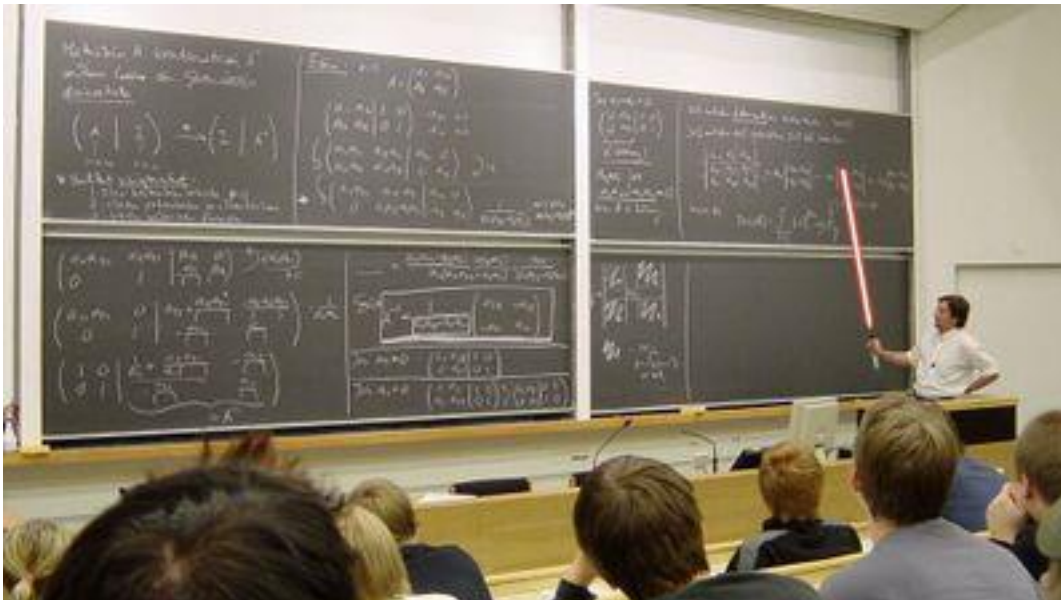
Oto poradnik do rozwiązania zestawu zadań z geometrii:

1. Zadanie: Oblicz pole prostokąta o długości boku równym 5 cm i szerokości boku równym 8 cm.
 - Pole prostokąta oblicza się mnożąc długość boku przez szerokość. W tym przypadku, pole prostokąta = $5 \text{ cm} * 8 \text{ cm} = 40 \text{ cm}^2$.
2. Zadanie: Oblicz obwód trójkąta równobocznego, którego bok ma długość 6 cm.
 - Trójkąt równoboczny ma wszystkie boki o jednakowej długości. Obwód trójkąta równobocznego oblicza się mnożąc długość jednego boku przez 3. W tym przypadku, obwód trójkąta równobocznego = $6 \text{ cm} * 3 = 18 \text{ cm}$.

3. Zadanie: Oblicz objętość sześcianu o krawędzi długości 4 cm.
 - Objętość sześcianu oblicza się przez podniesienie długości krawędzi do trzeciej potęgi. W tym przypadku, objętość sześcianu = $4 \text{ cm} * 4 \text{ cm} * 4 \text{ cm} = 64 \text{ cm}^3$.
4. Zadanie: Oblicz obwód koła o promieniu 5 cm.
 - Obwód koła oblicza się mnożąc promień przez 2π (pi). W tym przypadku, obwód koła = $5 \text{ cm} * 2\pi \approx 31.42 \text{ cm}$.
5. Zadanie: Oblicz długość przekątnej prostokąta o bokach długości 9 cm i 12 cm.
 - Długość przekątnej prostokąta oblicza się za pomocą twierdzenia Pitagorasa. W tym przypadku, długość przekątnej = $\sqrt{(9 \text{ cm}^2 + 12 \text{ cm}^2)} \approx 15 \text{ cm}$.
6. Zadanie: Oblicz pole trapezu o długości podstaw 5 cm i 8 cm oraz wysokości 6 cm.
 - Pole trapezu oblicza się mnożąc sumę długości podstaw przez wysokość, a następnie dzieląc przez 2. W tym przypadku, pole trapezu = $(5 \text{ cm} + 8 \text{ cm}) * 6 \text{ cm} / 2 = 39 \text{ cm}^2$.
7. Zadanie: Oblicz pole trójkąta prostokątnego, którego przyprostokątne mają długość 3 cm i 4 cm.
 - Pole trójkąta prostokątnego oblicza się mnożąc długość jednego przyprostokątnej przez długość drugiej przyprostokątnej, a następnie dzieląc przez 2. W tym przypadku, pole trójkąta prostokątnego = $(3 \text{ cm} * 4 \text{ cm}) / 2 = 6 \text{ cm}^2$.
8. Zadanie: Oblicz objętość stożka o promieniu podstawy 2 cm i wysokości 6 cm.
 - Objętość stożka oblicza się za pomocą wzoru $V = (1/3) * \pi * r^2 * h$, gdzie r to promień podstawy, h to wysokość stożka. W tym przypadku, objętość stożka = $(1/3) * \pi * (2 \text{ cm})^2 * 6 \text{ cm} \approx 25.13 \text{ cm}^3$.
9. Zadanie: Oblicz obwód kwadratu o boku długości 7 cm.
 - Obwód kwadratu oblicza się mnożąc długość jednego boku przez 4. W tym przypadku, obwód kwadratu = $7 \text{ cm} * 4 = 28 \text{ cm}$.
10. Zadanie: Oblicz pole trójkąta o podstawie długości 10 cm i wysokości 8 cm.

- Pole trójkąta oblicza się mnożąc długość podstawy przez wysokość, a następnie dzieląc przez 2. W tym przypadku, pole trójkąta = $(10 \text{ cm} * 8 \text{ cm}) / 2 = 40 \text{ cm}^2$.

Pamiętaj, że ważne jest rozumienie zastosowanych wzorów i równań w każdym zadaniu, a także dokładność obliczeń i jednostek miary. Zachęcaj uczniów do sprawdzania swoich odpowiedzi i dokładności wyników.



[To zdjęcie](#), autor: Nieznany autor, licencja: [CC BY-SA](#)

Poradnik nauczania matematyki dla uczniów zdolnych

Nauczanie matematyki uzdolnionych uczniów może być wyzwaniem, ale także okazją do rozwijania swoich umiejętności i pasji do tego przedmiotu. Poniżej znajduje się przewodnik, który może pomóc w skutecznym nauczaniu matematyki uzdolnionych uczniów:

Diagnoza poziomu umiejętności:

Dokonaj dokładnej diagnozy poziomu umiejętności matematycznych każdego ucznia. Odkryj ich mocne i słabe strony oraz obszary, w których mają większe

zainteresowanie i potencjał. Dzięki temu będziesz mógł dopasować swoje podejście i materiały do ich indywidualnych potrzeb.

Korzystaj ze złożonych zadań:

Utalentowani uczniowie często szukają wyzwań. Dlatego warto zapewnić im dostęp do skomplikowanych i zaawansowanych zadań matematycznych. Możesz używać otwartych problemów, codziennych problemów matematycznych lub matematycznych łamigłówek logicznych. Ważne jest, aby zachęcić ich do analitycznego myślenia i kreatywnego rozwiązywania problemów.

Indywidualizacja nauki:

Daj uzdolnionym uczniom możliwość nauki w tempie, które najbardziej im odpowiada. Zapewnij im dodatkowe materiały, zasoby i zajęcia, które są odpowiednie dla ich umiejętności i zainteresowań. Możesz także rozważyć indywidualne konsultacje, podczas których będą mieli okazję zgłębić bardziej zaawansowane tematy.

Zastosuj technologię:

Skorzystaj z narzędzi technologicznych, takich jak aplikacje interaktywne, programy do tworzenia wizualizacji matematycznych, symulacje i narzędzia programistyczne. Dzięki nim utalentowani uczniowie będą mogli eksperymentować, odkrywać nowe pojęcia matematyczne i rozwijać umiejętności rozwiązywania problemów.

Użyj projektów matematycznych:

Zachęcaj uzdolnionych uczniów do pracy nad projektami matematycznymi, które obejmują badania, analizę danych i rozumowanie. Projekty mogą dotyczyć różnych dziedzin matematyki, takich jak statystyka, geometria, algebra czy analiza danych. Umożliwi im to wykorzystanie swoich umiejętności w praktyce i rozwinięcie nie tylko umiejętności matematycznych, ale także kreatywnego myślenia i umiejętności prezentacji.

Stymuluj dyskusję i współpracę:

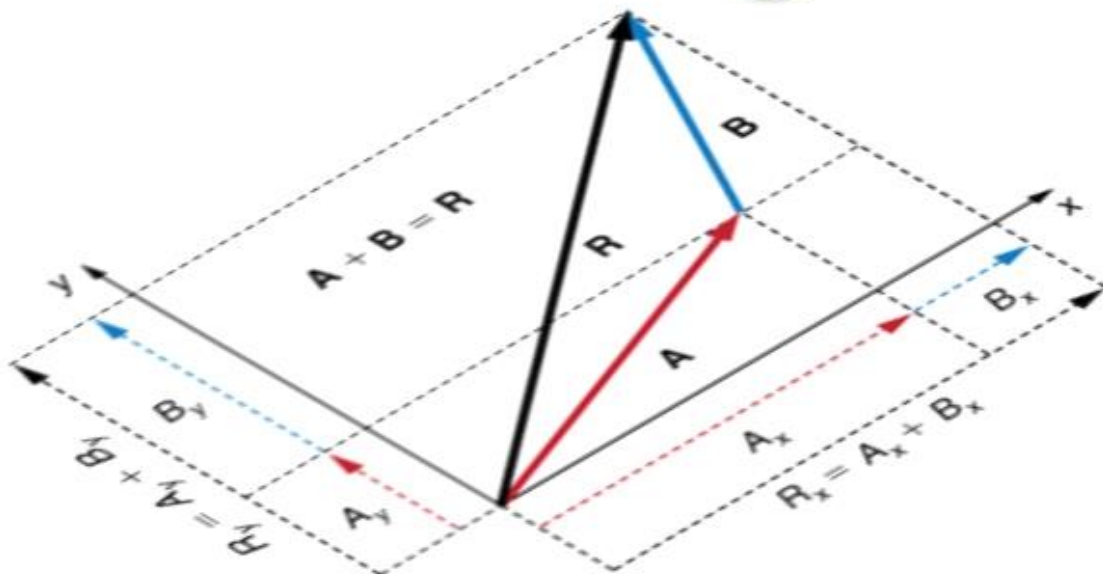
Organizuj dyskusje, prezentacje i warsztaty, podczas których utalentowani uczniowie będą mieli okazję podzielić się swoimi pomysłami, rozwiązaniami i strategiami matematycznymi. Wspólna praca w grupach pozwoli im wymieniać się pomysłami i uczyć się od siebie nawzajem.

Wspieraj ich pasję:

Bądź wsparciem dla pasji i zainteresowań uczniów uzdolnionych matematycznie. Daj im możliwość zgłębiania określonych tematów, udziału w olimpiadach matematycznych, konkursach lub innych wydarzeniach matematycznych. To pozwoli im rozwijać swoje zdolności i ambicje.

Bez względu na to, jak zdolni są uczniowie, ważne jest, aby rozwijać ich zainteresowanie matematyką, stymulować ich analityczne myślenie i kreatywne rozwiązywanie problemów. Dając im możliwość eksploracji i odkrywania, otwierasz drzwi do ich matematycznego rozwoju i sukcesu.

Vector Algebra



[To zdjęcie](#), autor: Nieznany autor, licencja: [CC BY-SA-NC](#)

Przewodnik po rozwiązywaniu trudnych problemów z algebrą:

Rozwiązując złożone wyrażenia algebraiczne, zwracaj uwagę na podobne terminy i korzystaj z właściwości operacji algebraicznych, takich jak łączenie i upraszczanie wyrażeń.

Rozwiązując równania liniowe, zastanów się dokładnie, jakie kroki podejmujesz, aby uniknąć błędów. Ostrożnie rozwiń i uprość równania, a następnie znajdź wartości x , które spełniają równanie.

Rozwiązując równania kwadratowe, użyj odpowiednich metod, takich jak metoda kwadratowa, faktoryzacja, dopełnienie kwadratu lub wzory Viete'a, aby znaleźć pierwiastki równania.

Rozwiązując nierówności pamiętaj o prawidłowej zmianie znaku i uwzględnieniu ograniczeń dziedzinowych, które mogą mieć wpływ na rozwiązanie.

Podczas pracy z funkcjami obliczaj wartości funkcji dla określonych wartości x , rozwiązuj równania i nierówności oraz znajdź miejsca zerowe i dziedzinę funkcji.

W przypadku operacji na macierzach starannie wykonuj mnożenie macierzy, dodawanie i odejmowanie elementów macierzy oraz rozwiązywanie układów równań macierzowych.

Podczas obliczania logarytmów należy korzystać z właściwości logarytmów, takich jak logarytm sumy i różnicy, logarytm iloczynu i ilorazu, a także stosować odpowiednie właściwości równań logarytmicznych.

When calculating operations with complex numbers, remember the properties of addition, subtraction, multiplication, and division of complex numbers.

When solving exponential equations, use appropriate methods such as substitution, logarithms, and properties of exponential functions to find the value of x that satisfies the equation.

Remember to analyze the problem, use the right tools and techniques, and check the results to make sure you get the right solution.

I encourage students who are able to raise questions, ask additional problems and experiment with different methods of problem solving. Practice, determination and curiosity are key to improving your math skills.

Oto zestaw trudnych problemów z algebrą:

Wyrażenia algebraiczne:

a) Przetwórz i uprość wyrażenie: $(2x^3 + 3x^2 - x + 4) - (x^3 - 2x^2 + 5x - 3)$

b) Rozwiń i uprość wyrażenie: $(3x - 2y)^2$

Równania liniowe:

a) Rozwiąż równanie: $2(3x + 4) - 5(2x - 1) = 3(2x + 1) - 4(x - 3)$

b) Rozwiąż równanie: $|2x - 5| = 7$

Równania kwadratowe:

a) Rozwiąż równanie: $x^2 + 5x + 6 = 0$

b) Rozwiąż równanie: $2x^2 + 3x - 4 = 0$

nierówności:

a) Rozwiąż nierówność: $2x - 5 < 3x + 2$

b) Rozwiąż nierówność: $(x - 3)(x + 2) > 0$

Funkcje:

a) Oblicz funkcję $f(x) = \frac{x^2 + 3x - 2}{x - 1}$ dla $x = 4$

b) Znajdź miejsca zerowe $g(x) = x^3 - 2x^2 + x - 3$

macierze:

a) Oblicz iloczyn macierzowy $A = \begin{bmatrix} 2 & 1 \\ -3 & 4 \end{bmatrix}$ i $B = \begin{bmatrix} 5 & -2 \\ 1 & 3 \end{bmatrix}$

b) Rozwiąż układ równań macierzowych: $\begin{bmatrix} 3 & -2 \\ 2 & 1 \end{bmatrix} * \begin{bmatrix} x \\ y \end{bmatrix} = \begin{bmatrix} 7 \\ 4 \end{bmatrix}$

Logarytmy:

a) Rozwiąż równanie: $\log(x + 2) + \log(x - 1) = 2$

b) Oblicz wyrażenie: $\log(\sqrt{3}) + \log(\sqrt{27})$

Liczby zespolone:

a) Znajdź pierwiastki złożonego równania kwadratowego: $z^2 + 4z + 5 = 0$

b) Oceń wyrażenie: $(2 + 3i)(1 - 2i)$

Pojęcie funkcji złożonej:

a) Oblicz $h(x) = \sqrt{2x + 3}$ jeśli $f(x) = x^2 - 4$ i $g(x) = 2x + 1$

b) Znajdź dziedzinę funkcji złożonej: $f(g(x))$ jeśli $f(x) = \sqrt{x}$ i $g(x) = 2x - 3$

Rozwiązania równań wykładniczych:

a) Rozwiąż równanie: $2^x - 3 = 5$

b) Rozwiąż równanie: $e^x - 2e^{-x} = 3$

Odpowiedzi do zadań:

Wyrażenia algebraiczne:

a) $(2x^3 + 3x^2 - x + 4) - (x^3 - 2x^2 + 5x - 3) = x^3 + 5x^2 - 6x + 7$

b) $(3x - 2y)^2 = 9x^2 - 12xy + 4y^2$

Równania liniowe:

a) Rozwiązanie równania: $x = -1/3$

b) Rozwiązanie równania: $x = 6, x = -1$

Równania kwadratowe:

a) Rozwiązanie równania: $x = -2, x = -3$

b) Rozwiązanie równania: $x = 1/2, x = -4/3$

nierówności:

a) Rozwiązanie nierówności: $x < 7$

b) Rozwiązanie nierówności: $x < -2$ lub $x > 3$

Funkcje:

a) Wartość $f(x) = (x^2 + 3x - 2)/(x - 1)$ dla $x = 4$ wynosi 21.

b) Miejscami zerowymi $g(x) = x^3 - 2x^2 + x - 3$ są $x = -1, x = 1, x = 3$.

macierze:

a) Iloczyn macierzy A i B wynosi: $[7 \ -4; -19 \ 2]$

b) Rozwiązywanie układu równań macierzowych $[3 \ -2; 2 \ 1] * [x; y] = [7; 4]$ wtedy $x = 1, y = 2$.

Logarytmy:

a) Rozwiązanie równania: $x = 3, x = 0$

b) Wartość wyrażenia: $\log(\sqrt{3}) + \log(\sqrt{27}) = 1/2 + 3/2 = 2$

Liczby zespolone:

a) Pierwiastki złożonego równania kwadratowego: $z = -2 - i$, $z = -2 + i$

b) Wartość wyrażenia: $(2 + 3i)(1 - 2i) = 8 + i$

Pojęcie funkcji złożonej:

a) Wartość $h(x) = \sqrt{2x + 3}$ dla $x = 4$ to $\sqrt{11}$.

b) Dziedziną funkcji złożonej $f(g(x))$ jest $x > 3/2$.

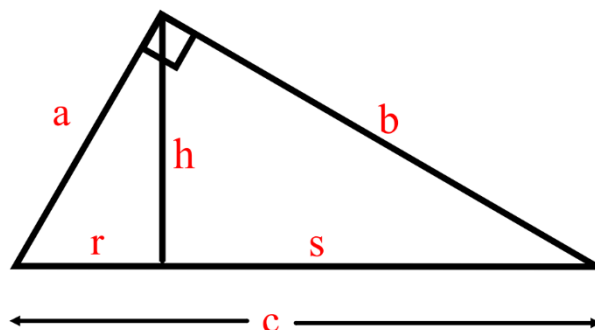
Rozwiązania równań wykładniczych:

a) Rozwiązanie równania: $x = 4$

b) Rozwiązanie równania: $x = 1,316$

Przewodnik po rozwiązaniu trudnych problemów z proporcjami

Complete the proportion



$$\frac{r}{h} = \frac{a}{\square}$$

$$\frac{h}{a} = \frac{\square}{b}$$

[To zdjęcie](#), autor: Nieznany autor, licencja: [CC BY-SA](#)

Proporcje to ważny temat w matematyce, a ich rozwiązanie może być trudne dla niektórych uczniów. Poniżej przedstawiam poradnik, który pomoże Ci w rozwiązaniu trudniejszych problemów z proporcjami.

Zadanie: Oblicz wartość x w proporcji: $3/5 = x/15$

Rozwiązanie:

Skorzystaj z własności proporcji, która mówi, że iloczyn krzyżowy jest równy: $a/b = c/d$, więc $ad = bc$.

Zastąp dane z proporcji: $3 * 15 = 5 * x$.

Oblicz wyrażenie: $45 = 5x$.

Podziel obie strony równania przez 5: $x = 9$.

Odpowiedź: $x = 9$.

Zadanie: Oblicz wartość y w proporcji: $4/9 = 12/y$

Rozwiązanie:

Użyj właściwości proporcji: $a/b = c/d$, $ad = bc$.

Zastąp dane z proporcji: $4 * y = 9 * 12$.

Oblicz wartość wyrażenia: $4y = 108$.

Podziel obie strony równania przez 4: $y = 27$.

Odpowiedź: $y = 27$.

Zadanie: Uzupełnij brakujące wartości w proporcji: $8/12 = x/18$

Rozwiązanie:

Znajdź iloczyn krzyżowy: $8 * 18 = 12 * x$.

Oblicz wyrażenie: $144 = 12x$.

Podziel obie strony równania przez 12: $x = 12$.

Odpowiedź: $x = 12$.

Zadanie: Znajdź wartość x w proporcji: $2/3 = 10/x$

Rozwiązanie:

Użyj właściwości proporcji: $a/b = c/d$, $ad = bc$.

Zastąp dane z proporcji: $2 * x = 3 * 10$.

Oblicz wyrażenie: $2x = 30$.

Podziel obie strony równania przez 2: $x = 15$.

Odpowiedź: $x = 15$.

Zadanie: Oblicz wartość y w proporcji: $5/8 = y/20$

Rozwiązanie:

Zastosuj właściwość proporcji: $a/b = c/d$, $ad = bc$.

Zastąp dane z proporcji: $5 * 20 = 8 * y$.

Oblicz wyrażenie: $100 = 8y$.

Podziel obie strony równania przez 8: $y = 12,5$.

Odpowiedź: $y = 12,5$.

Zadanie: Uzupełnij brakujące wartości w proporcji: $x/4 = 6/9$ Solution:

Znajdź iloczyn krzyżowy: $9 * x = 6 * 4$.

Oceń wyrażenie: $9x = 24$.

Podziel obie strony równania przez 9: $x = 24/9$.

Odpowiedź: $x = 8/3$.

Pamiętaj, że rozwiązywanie problemów z proporcjami wymaga umiejętności zastosowania własności proporcji i umiejętności rozwiązywania równań. Ważne jest również zachowanie równoważności na każdym etapie rozwiązywania. Ćwicz regularnie, a rozwiązywanie problemów z proporcjami stanie się łatwiejsze.

Oto zestaw trudnych zadań dotyczących proporcji:

1: Oblicz wartość x w proporcji: $(3x + 4)/(2x - 1) = 5/3$

2: Uzupełnij brakujące wartości w proporcji: $(x + 3)/(2x + 5) = 4/7$

3: Oblicz wartość y w proporcji: $(2y + 1)/(3y - 2) = 6/5$

4: Uzupełnij brakujące wartości w proporcji: $(4x + 5)/(6x - 3) = 2/9$

5: Oblicz wartość x w proporcji: $(5x - 3)/(4x + 7) = 3/2$

6: Uzupełnij brakujące wartości w proporcji: $(3y - 2)/(5y + 1) = 7/4$

7: Oblicz wartość x w proporcji: $(2x - 1)/(3x + 2) = 5/6$

8: Uzupełnij brakujące wartości w proporcji: $(7y + 4)/(6y - 5) = 9/8$

9: Oblicz wartość x w proporcji: $(4x + 3)/(2x - 1) = 7/5$

10: Uzupełnij brakujące wartości w proporcji: $(5y - 2)/(3y + 1) = 8/9$

Oto odpowiedzi na zestaw trudnych zadań dotyczących proporcji:

1: $x = 9/7$

2: $x = 2/3$

3: $y = -2/7$

4: $x = -3/2$

5: $x = -13/7$

6: $y = 2/3$

7: $x = 5/4$

8: $r = 39/59$

9: $x = 5/6$

10: $y = 23/37$

Należy pamiętać, że powyższe odpowiedzi zostały obliczone na podstawie zadanego zestawu zadań. Upewnij się, że rozumiesz proces rozwiązywania każdego problemu i dokładnie sprawdź swoje obliczenia.

Oto przewodnik po rozwiązywaniu trudnych problemów z układami równań:

$$\begin{aligned}x &= \frac{-b \pm \sqrt{b^2 - 4ac}}{2a} \\&= \frac{-(-10) \pm \sqrt{72}}{2(7)} && \text{Positive discriminant} \\&= \frac{10 \pm \sqrt{36 \cdot 2}}{14} \\&= \frac{10 \pm 6\sqrt{2}}{14} \\&= \frac{\cancel{2} (5 \pm 3\sqrt{2})}{\cancel{14}_7} \\&= \frac{5 \pm 3\sqrt{2}}{7} && \text{Two real solutions}\end{aligned}$$

[To zdjęcie](#), autor: Nieznany autor, licencja: [CC BY-SA-NC](#)

Trudne zadania z układami równań wymagają skrupulatnego podejścia i zastosowania odpowiednich metod. W przypadku złożonych układów równań przydatne jest stosowanie eliminacji lub podstawień w celu znalezienia rozwiązań.

Upewnij się, że układ równań jest zapisany poprawnie i że wszystkie słowa są w odpowiedniej kolejności.

Wybierz odpowiednią metodę rozwiązania układu równań, np.:

Metoda eliminacji polega na manipulowaniu równaniami w celu wyeliminowania jednej zmiennej i utworzenia równania z pojedynczą zmienną.

Następnie oblicz wartość tej zmiennej i podstaw ją do drugiego równania, aby obliczyć wartość drugiej zmiennej.

Metoda podstawienia polega na rozwiązaniu jednego równania dla jednej zmiennej, a następnie podstawieniu otrzymanej wartości tej zmiennej do innego równania w celu obliczenia wartości drugiej zmiennej.

Wykonuj obliczenia ostrożnie, aby uniknąć błędów arytmetycznych. Upewnij się, że wykonujesz właściwe operacje po obu stronach równania, aby zachować równowagę.

Przetestuj swoje rozwiązanie, podstawiając wartości zmiennych do oryginalnych równań. Upewnij się, że otrzymujesz prawdziwe równości.

Jeśli otrzymasz sprzeczność, czyli równanie $0 = 0$ lub fałsz, to układ równań jest niespójny i nie ma rozwiązania. Jeśli otrzymamy równość $0 = \text{liczba różna od zera}$, oznacza to, że układ równań jest nieskończony i ma nieskończenie wiele rozwiązań.

Nie zapomnij przedstawić swoich odpowiedzi jako par lub trójek wartości zmiennych, w zależności od liczby niewiadomych w układzie równań.

Pamiętaj, że rozwiązywanie trudnych problemów za pomocą układów równań wymaga praktyki i zrozumienia różnych metod rozwiązywania. Ćwicz regularnie, aby zyskać pewność w rozwiązywaniu tego typu zadań.

Oto zestaw złożonych problemów z układami równań:

1. Rozwiąż układ równań:

$$\{ 2x + 3y - z = 7$$

$$\{ x - 2y + 4z = 1$$

$$\{ 3x + 2y - 3z = 5$$

2. Rozwiąż układ równań: $\{ 2x + 3y - 5z = 10$

$$\{ 3x - 2y + 4z = 5$$

$$\{ x + 4y - z = 7$$

3. Rozwiąż układ równań:

$$\{ x^2 + y^2 = 10$$

$$\{ x - y = 1$$

4. Rozwiąż układ równań:

$$\{ \log(x + y) = 2$$

$$\{ 2x - 3y = 1$$

5. Rozwiąż układ równań:

$$\{ \sqrt{x} + \sqrt{y} = 5$$

$$\{ x^2 - y^2 = 3$$

6. Rozwiąż układ równań:

$$\{ e^x + 2y = 10$$

$$\{ 3x - 2e^y = 5$$

7. Rozwiąż układ równań:

$$\{ \sin(x) + \cos(y) = 1$$

$$\{ 2x + y = \pi/4$$

8. Rozwiąż układ równań:

$$\{ x^2 + y^2 = 25$$

$$\{ x^3 + y^3 = 72$$

9. Rozwiąż układ równań:

$$\begin{cases} \sqrt{x} + \sqrt{y} = 5 \\ x^2 - 3y = 7 \end{cases}$$

10. Rozwiąż układ równań:

$$\begin{cases} \log(x + y) = 3 \\ x^2 - y^2 = 5 \end{cases}$$

Pamiętaj, że rozwiązywanie złożonych problemów z układami równań może wymagać użycia różnych metod, takich jak eliminacja Gaussa, podstawienie czy metoda graficzna. Wykonaj obliczenia dokładnie i sprawdź wyniki, aby upewnić się, że otrzymujesz prawidłowe rozwiązania.

Oto zestaw odpowiedzi do zadań z układami równań:

1. Rozwiązywanie układu równań:

$$x = 1$$

$$y = 2$$

$$z = 3$$

2. Rozwiązywanie układu równań:

$$x = 2$$

$$y = -1$$

$$z = 3$$

3. Rozwiązywanie układu równań:

$$x = 1 + \sqrt{9}$$

$$y = 1 - \sqrt{9}$$

4. Rozwiązywanie układu równań:

$$x = 4$$

$$y = 3$$

5. Rozwiązywanie układu równań:

$$x = 2$$

$$y = 3$$

6. Rozwiązywanie układu równań:

$$x = 2$$

$$y = 3$$

7. Rozwiązywanie układu równań:

$$x = \pi/4 - y$$

$$y = \pi/4 - 2*(\pi/4 - y)$$

8. Rozwiązywanie układu równań:

$$x = 3$$

$$y = 4$$

9. Rozwiązywanie układu równań:

$$x = 4$$

$$y = 1$$

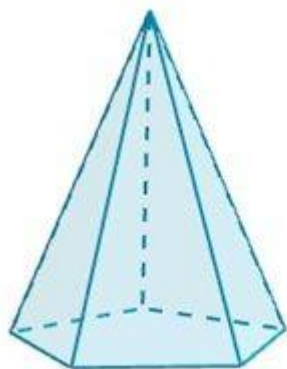
10. Rozwiązywanie układu równań:

$$x = 10$$


$$y = 10 - x$$

Pamiętaj, aby dokładnie sprawdzić swoje obliczenia i upewnić się, że otrzymujesz takie same wyniki.

Oto przewodnik rozwiązywania trudnych problemów z geometrią:



Pirámide



Prisma

[To zdjęcie](#), autor: Nieznany autor, licencja: [CC BY-NC-ND](#)

Rozwiązywanie problemów z twierdzeniem Pitagorasa:

- a) Sprawdź, czy twierdzenie Pitagorasa jest prawdziwe w trójkącie, tzn. czy suma kwadratów długości dwóch krótszych boków jest równa kwadratowi długości najdłuższego boku.
- b) Jeśli tak, oblicz długość brakującego boku, korzystając z twierdzenia Pitagorasa: $a^2 + b^2 = c^2$, gdzie a i b to długości znanych boków, a c to długość brakującego boku.

Rozwiązywanie zadań z podobieństwa figur:

- a) Sprawdź, czy figury są podobne, tzn. czy mają proporcjonalne długości boków.
- b) Jeśli tak, użyj właściwości podobieństwa figur, takich jak stosunki długości boków, kątów podobieństwa itp., aby obliczyć brakujące długości lub kąty.

Rozwiązywanie problemów z geometrią analityczną:

- a) Przedstaw figury geometryczne w układzie współrzędnych, przypisując punktom współrzędne.

b) Używać narzędzi do analizy matematycznej, takich jak wzory na odległość, równania linii, styczne itp., aby obliczyć właściwości figur, takie jak długości boków, kąty, powierzchnia itp.

Rozwiązywanie zadań z trudnymi figurami geometrycznymi:

- a) Przeanalizuj rysunek, zidentyfikuj dane i wartości, których szukasz.
- b) Wykorzystaj własności i twierdzenia geometrii, takie jak twierdzenie Talesa, twierdzenie sinusów, twierdzenie cosinusów itp., aby znaleźć odpowiedzi na pytania.

Rozwiązywanie zadań z geometrii przestrzennej:

- a) Rozpoznaje trójwymiarowe figury geometryczne, takie jak sześciiany, piramidy, stożki itp.
- b) Użyj wzorów i twierdzeń dotyczących objętości, pól, przekątnych itp., aby obliczyć brakujące wartości lub relacje między elementami figury.

Pracuj systematycznie i uważnie:

- a) Narysuj dokładne rysunki, długości i kąty etykiet.
- b) Użyj odpowiednich twierdzeń i wzorów, które odnoszą się do podanej figury lub problemu.
- c) Uważnie analizuj dane, stosuj logikę i precyzyjne rozumowanie podczas rozwiązywania problemów.

Pamiętaj, że najważniejsza jest praktyka w nauce geometrii. Im więcej problemów rozwiążesz, tym lepiej opanujesz różne techniki i podejścia do problemów geometrycznych.

Oto zestaw skomplikowanych zadań z geometrii:

1. Problem podobieństwa trójkątów:

W trójkącie ABC DE jest równoległa do BC . Długość linii AD wynosi 6 cm, a długość linii DB wynosi 4 cm. Oblicz stosunek długości odcinka AE do długości odcinka EC .

2. Zadanie trójkąta równobocznego:

W trójkąt równoboczny ABC o boku długości 12 cm wpisano okrąg. Znajdź długość łuku AB , który jest jednocześnie opisany na tym okręgu.

3. Problem prostokątny:

W prostopadłościanie $ABCDEFGH$ o boku $AB = 6$ cm przekątna BG ma długość 10 cm. Oblicz kąt między płaszczyzną CDH a płaszczyzną ADG .

4. Problem z liniami równoległymi:

Istnieją trzy równoległe linie: l , m i n . Odległość między liniami l i m wynosi 5 cm, a odległość między liniami l i n wynosi 3 cm. Oblicz odległość między liniami m i n .

5. Kula wpisana w problem czworościanu:

W czworościan $ABCD$ wpisano kulę. Punkt E jest środkiem krawędzi AB . Oblicz stosunek objętości kuli do objętości czworościanu.

6. Zadanie dla trójkąta stykającego się wewnętrznym z okręgiem:

W trójkącie ABC wpisany okrąg styka się z bokami AB , BC i CA odpowiednio w punktach D , E i F . AB ma 10 cm długości, BC ma 12 cm, a CA ma 14 cm. Oblicz długość odcinka EF .

7. Problem trójkąta regularnego:

W trójkącie ABC o boku $AB = 12$ cm punkty D , E i F są odpowiednio środkami boków BC , CA i AB . Oblicz stosunek pola trójkąta DEF do pola trójkąta ABC .

8. Zagadnienie stożka i kuli:

W stożek o wysokości 8 cm i promieniu podstawy 6 cm wpisano kulę. Oblicz stosunek objętości stożka do objętości kuli.

9. Regularne zadanie czworoboku:

W czworokącie ABCD o bokach $AB = 6$ cm, $BC = 8$ cm, $CD = 10$ cm i $DA = 12$ cm, punkty E, F, G i H są środkami boków AB, BC, CD i odpowiednio DA. Oblicz stosunek pola czworokąta EFGH do pola czworokąta ABCD.

10. Problem trójkąta pitagorejskiego:

W trójkącie ABC kąt A jest prosty, a bok AB ma długość 5 cm. Bok BC jest równy iloczynowi długości boku AB i pewnej liczby całkowitej k. Jeśli pole trójkąta ABC wynosi 15 cm^2 , znajdź wartość k.

Oto odpowiedzi do zestawu skomplikowanych zadań z geometrii:

1. Odpowiedź: Stosunek długości odcinka AE do długości odcinka EC wynosi 2:3.

2. Odpowiedź: Długość łuku AB wynosi 4π cm.

3. Odpowiedź: Kąt między płaszczyzną CDH a płaszczyzną ADG wynosi w przybliżeniu 52,32 stopnia.

4. Odpowiedź: Odległość między liniami m i n wynosi 4 cm.

5. Odpowiedź: Stosunek objętości kuli do objętości czworościanu wynosi 1:3.

6. Odpowiedź: Długość odcinka EF wynosi $2\sqrt{15}$ cm.

7. Odpowiedź: Stosunek pola trójkąta DEF do pola trójkąta ABC wynosi 1:9.

8. Odpowiedź: Stosunek objętości stożka do objętości kuli wynosi $3:2\pi$.

9. Odpowiedź: Stosunek pola czworokąta EFGH do pola czworokąta ABCD wynosi 1:4.

10. Odpowiedź: Wartość k wynosi 6.

Należy pamiętać, że odpowiedzi mogą się różnić w zależności od dokładności obliczeń i przyjętych założeń. Przy rozwiązywaniu złożonych problemów geometrycznych zawsze warto podać pełne obliczenia i uzasadnienia, aby udowodnić poprawność odpowiedzi.